



Городская олимпиада младших школьников и обучающихся 5-6-х классов «Тулячок» 2023-2024 учебного года по окружающему миру школьный этап 3 класс

Время выполнения: 45 минут
Количество баллов: 100

Шифр участника
5

Задание 1. Блицтурнир. Ответьте на вопрос, запишите ответ.

- 1) Самый короткий месяц в году? февраль
2) Какой месяц следует после мая? июнь
3) Самая близкая к нашей планете звезда? Солнце
4) Сколько ног у насекомых? шесть
5) Как называется столица нашей Родины? Москва
6) К какой группе деревьев относятся сосна, кедр, ель? хвойные
7) Книга, в которую занесены исчезающие виды растений и животных? Красная книга
8) По какому номеру вызывают пожарную службу? 01 или 112
9) Если ты стоишь лицом к северу, то за спиной у тебя юг
10) Прибор для измерения температуры - это термометр

100

Задание 2. Найдите 6 названий птиц. Зачеркните лишние буквы. Запишите названия птиц.

ПРВОРОНА ЧАКВА ИСТМАЩЕГОЛВЫЦМАЛИНОВКАФИПЕТДЯТЕЛСЖЕЛГОЛУБЬВЗГЕРХИИ

Ответ: ворона, аист, щегол, малиновка, дятел, голубь.

60

Задание 3.

На Руси это дерево использовали для изготовления лаптей?

Ответ: береза, осина

05

Задание 4.

Какие почвенные организмы помогают плодородию почвы?

Ответ: бактерии

15

Задание 5. Подчеркните правильные ответы.

Что является государственными символами?

гимн памятники реки герб столица флаг леса

30

Задание 6. Подчеркните объекты природы.

Озеро, кружка, велосипед, облако, кирпич, родник, автобус, книга, бабочка.

45

**Задание 7. Выберите правильное определение, обведите букву правильного ответа.**

Полезные ископаемые – это ...

- а) все минералы и горные породы, из которых состоит Земля.
- б) природные богатства, которые люди добывают из глубин земли или с её поверхности и используют в народном хозяйстве.
- в) полезные вещества, которые получают из горных пород и минералов.

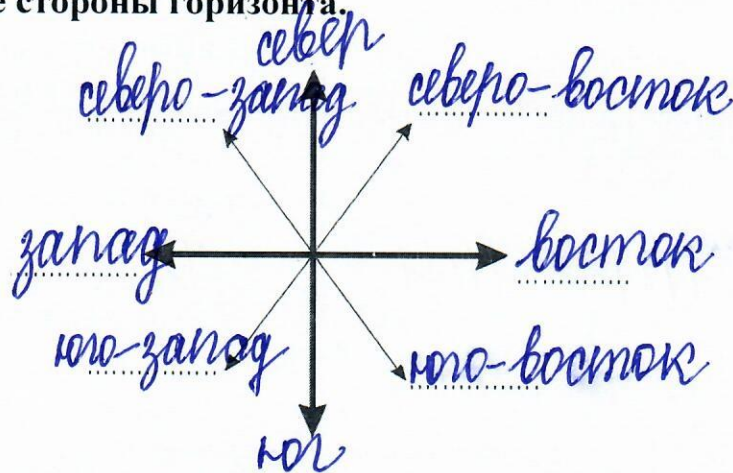
05

**Задание 8. Узнайте природное явление по его описанию. Запишите ответ.**

Природное явление	Ответ
1. Капельки воды, которые покрывают растения и поверхности в ранние часы в тёплое время года.	роса +
2. Электрический разряд в небе, сопровождающийся громким звуком.	молния +
3. Маленькие льдинки, которыми иногда сопровождается летний дождь.	град +
4. Снегопад с сильным ветром.	метель +

45

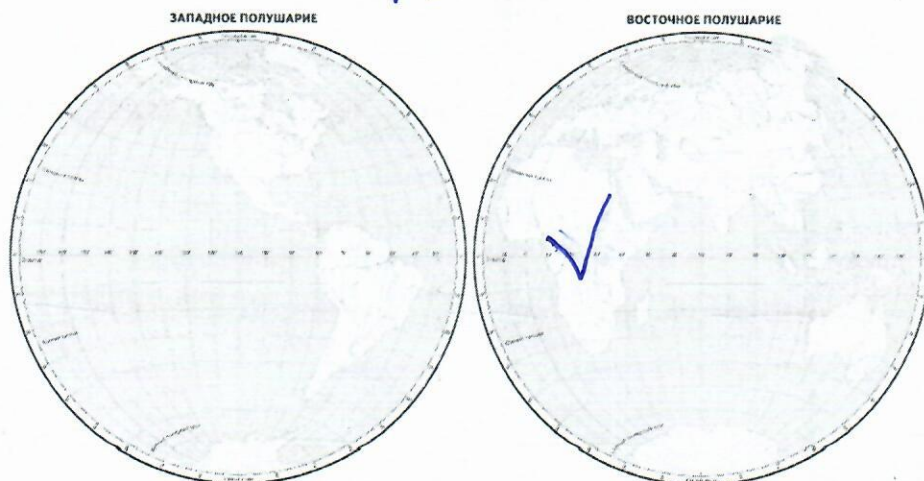
**Задание 9. Укажите стороны горизонта.**



85

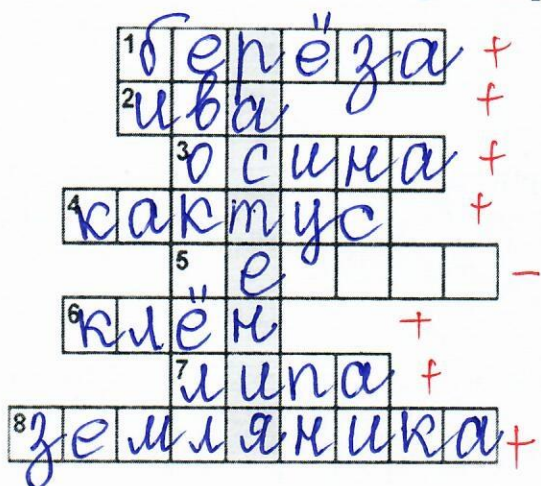
**Задание 10. Укажите на карте знаком ✓ материк с самым жарким климатом.**

Как он называется? Ответ: Африка



25

**Задание 11. Разгадайте кроссворд.**




1. Лиственное дерево с белой корой.
2. Дерево, которое плачет.
3. Из этого дерева делают спички.
4. У него вместо листьев колючки.
5. Комнатное растение, которое отпугивает своим запахом моль.
6. Он считается символом Канады.
7. Лиственное дерево-медонос.
8. Лесная ягода.

Какое слово получилось по вертикали?

Ответ: растения +

225

**Задание 12. Соедините линией значения слов.**



45

**Задание 13. Составьте 3 цепи питания, используйте слова для выбора:**

орехи, кабан, короед, кора дерева, дятел, белка, жёлуди, ястреб, волк

кора дерева - короед - дятел +

орехи - белка - ястреб +

жёлуди - кабан - волк +

65

**Задание 14. Какой орган не является органом пищеварения? Зачеркните его.**

пищевод    желудок    ~~лёгкие~~    кишечник    язык    зубы

15

**Задание 15. Найдите причину.**

Вырубили старые дуплистые деревья – погиб лес.

- а) в старых деревьях много насекомых: корма для птиц;
- б) в дуплах старых деревьев гнездятся птицы, живут летучие мыши, которые питаются опасными для леса насекомыми;
- в) в старых дуплистых деревьях живут белки.

25

**Задание 16. Разгадайте ребусы о природных явлениях. Запишите ответ.**



1) туман



2) шмель



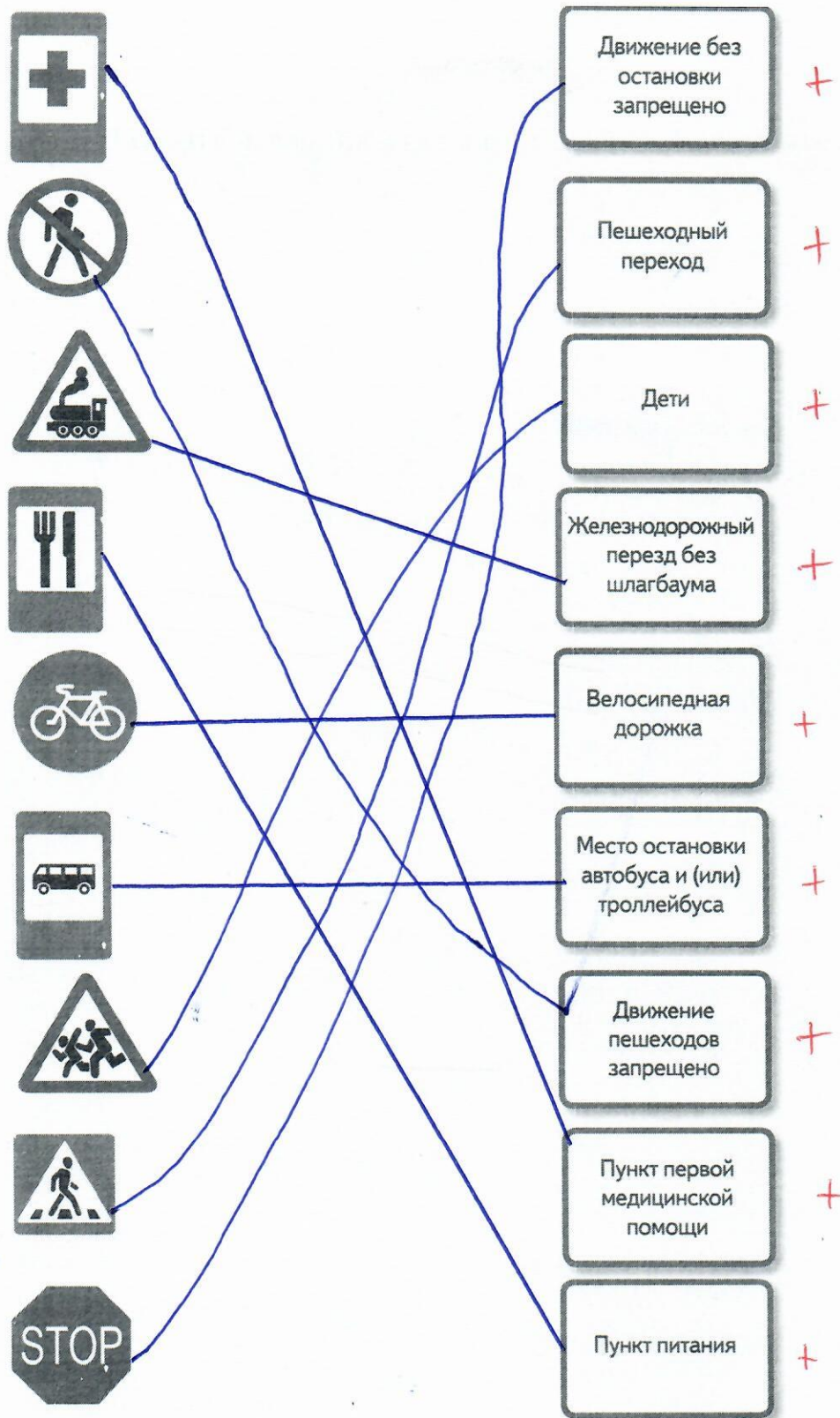
3) источник ветер



4) ветер

85

Задание 17. Найдите название для каждого знака. Соедините линией.



95

Задание 18. На территории Тульской области произошла важная для истории нашей Родины битва. Русское войско под предводительством Дмитрия Донского одержало победу. Как называется это историческое место?

Ответ: Куликово поле

55



635

**Городская олимпиада младших школьников и обучающихся 5-6-х классов «Тулячок»  
2023-2024 учебного года по окружающему миру  
школьный этап  
4 класс**

Шифр участника

02

**Время выполнения: 45 минут**

**Количество баллов: 100**

**Задание 1. Блицтурнир.**

1. Кто может пить ногой? слон
2. Птица, ходящая под водой. чайка
3. Домик бобра. плотина-хатка 2б
4. Кто кукует у кукушки? птенец
5. Какая птица летает хвостиком вперед? кальбра 2б
6. Кто такой сохатый? медведь
7. Дерево – королева тайги. сосна
8. В каком месяце бывают “черёмуховые холода”? в феврале
9. Название этого растения переводится как «солнечный цветок», потому что его соцветия днём активно поворачиваются вслед за солнцем. Что это за растение? подсолнух 2б

**Задание 2. Распределите названия географических объектов по соответствующим столбцам таблицы.**

Саяны, Кама, Каспийское, Индигирка, Дон, Алтай, Ладожское, Белое, Восточно-Сибирское, Онежское, Охотское, Эльбрус.

115

	Горы	Моря	Озёра	Реки
1	Эльбрус	Каспийское 1	Онежское 1	Дон 1
1	Алтай	Белое 1	Охотское	Кама 1
1	Саяны	Восточно-Сибирское 1	Ладожское 1	Индигирка 1

2

**Задание 3.**

Свет от звёзд до Земли идёт так долго, что в телескопы можно увидеть процессы, которые происходили со звёздами миллионы лет назад. Из-за этого телескопы иногда называют...

- а) машинами времени.
- б) телевизорами.

- в) старинными часами.
- г) гадальными картами.

Ответ: а.

**Задание 4. Распределите утверждения на права и обязанности гражданина, запишите номера в таблицу.**

- 1) Каждый школьник 1 раз в четверть отдыхает, так как законом предусмотрены каникулы.
- 2) Получение каждым школьником образования.
- 3) Бережное отношение к имуществу школы.
- 4) Уважение своих одноклассников и всех работников школы.
- 5) Соблюдение правил поведения в школе.
- 6) Каждый школьник может развивать свои способности и таланты.

Права	Обязанности
5, 6, 1, 2	4, 5, 3

**Задание 5.**

Исследования показывают, что первые четыре планеты Солнечной системы можно отнести к земной группе, так как у них есть много общего: относительная близость к Солнцу, сравнительно небольшое время одного оборота вокруг Солнца. А то ещё является их общим свойством?

Ответ: приблизительно одинаковый размер.

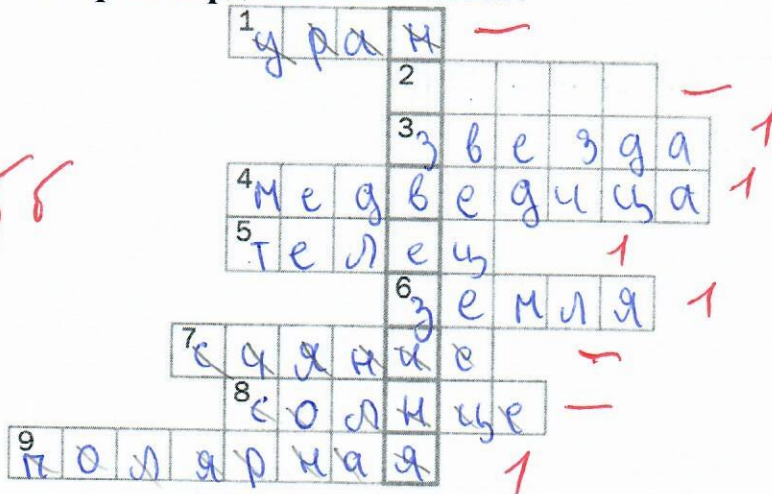
**Задание 6. О какой природной зоне идёт речь в данном отрывке:**

Для зоны характерны долгое, засушливое лето, малоснежная зима. Растительный мир: преобладает травянистая растительность, злаки: ковыль, типчак, мятлик.

Животный мир: тушканчики, суслики, дрофа, пустельга, жаворонок

Ответ: пустыня.

**Задание 7. Разгадайте кроссворд «Звёздное небо».**



- 1) Планета Солнечной системы с двумя спутниками, температура на которой редко поднимается выше 0°.
- 2) Созвездие, названное по имени охотника из древнегреческих мифов.
- 3) Горячее светящееся небесное тело, подобное Солнцу.

- 4) Животное, в честь которого названы два созвездия, звезды которых образуют фигуры, похожие на ковши.
- 5) Созвездие «бык».
- 6) Третья планета от Солнца.
- 7) Особое скопление звёзд в созвездии Тельца.
- 8) Самая яркая звезда на небе.
- 9) Звезда, которая раньше заменяла компас морякам и путешественникам.

+16 Слово по вертикали созвездие

**Задание 8. Блицтурнир о Тульском кремле.**

- а) В каком веке был построен Тульский кремль 16 1.
- б) По указу какого государя был построен Тульский Кремль? А Петра I.
- в) Сколько всего башен в Тульском кремле?  
6 из них 3 проездные, 3 глухие.
- г) Сколько соборов на территории кремля 2 1.
- д) Высота колокольни Успенского собора 100 м.

25

**Задание 9. Укажите дату первого полета человека в космос.**

- а) 12 апреля 1961 года
- б) 1 июня 1960 года
- в) 4 октября 1957 года

Ответ: а.

25

**Задание 10. Укажите правильный ответ.**

Экологическая проблема — это:

- а) изменение климата на различных планетах Солнечной системы;
- б) опасное изменение в окружающей среде под воздействием человека;
- в) разрушение исторических источников в результате стихийных бедствий.

Ответ: б.

25

**Задание 11. Выберите - какие химические процессы происходят при приготовлении пищи. Соедините линиями.**

Кипячение воды	—	Растворение твердого вещества в воде	27
Добавление соли	—	Распад крахмала и потемнение сахаров растений	26
Варка мяса	—	Изменение цвета животного белка	28
Жарка картофеля	—	Переход воды в газообразное состояние	25

**Задание 12.** Определите названия двух очень сходных полезных ископаемых по их свойствам: 1) твердый, хрупкий, бурого цвета, состоит из остатков растений, легче воды, тускло горит; 2) твердый, хрупкий, чёрного цвета, состоит из остатков растений, тяжелее воды, ярко горит.

Ответ: 1. доломитовая шпала  
2. уголь

35

**Задание 13. Узнайте историческое событие по описанию.**

Завоеватель, мечтавший о мировом господстве, вторгся в Россию. Русские люди единодушно выступили против захватчиков. В Бородинском сражении русские солдаты и офицеры проявили чудеса храбрости. Россия дала достойный отпор врагу. В память об этом событии в Москве в конце XIX века был воздвигнут храм Христа Спасителя.

Событие Ледовое побоище 0

Завоеватель Шведы, немцы

**Задание 14. Установите последовательность событий.**

3	Появление первой печатной газеты
2	Начало книгопечатания в России
4	Открытие Московского университета
1	Создание «Повести временных лет» Нестором-летописцем

45

**Задание 15. Вопросы по ПДД.**

Если согласны, в клеточках ставьте «+», если не согласны «-».

65

+	1	Одно из опасных мест для пешеходов - перекресток.
-	2	На тротуаре рядом с проезжей частью можно играть с мячом.
-	3	Если опаздываешь на урок, нужно быстро перебежать дорогу.
+	4	Нужно дожидаться, когда автобус отъедет подальше от остановки. Только тогда переходить дорогу.
+	5	Двигайся по тротуару, придерживаясь правой стороны.
+	6	На желтый сигнал светофора нужно стоять.

**Задание 16. Вспомните, какие экологические проблемы возникли на нашей планете.**

Запишите пример экологической проблемы и способы их решения.

55

Проблема: загрязнение почвы

Решение: распространить информацию, сказать людям выкидывать мусор в мусорные баки, попросить добровольцев и друзей людей убирать мусор